

















HALLOWEEN – FELADATLAP NÉV:

1. Hasonlítsd össze!

123  213 
 4321  4322 
 764  764 

2. Számold ki!

7  $\xrightarrow{\cdot 5}$  $\xrightarrow{-3}$  $\xrightarrow{:4}$  $\xrightarrow{\cdot 7}$ 
 450  $\xrightarrow{-400}$  $\xrightarrow{\cdot 5}$  $\xrightarrow{-125}$  $\xrightarrow{:5}$ 

3. Számold ki!

$1\ 212+9=$ $811-6+7=$ $4\ 796-2\ 000=$ $478+9=$
 $2\ 345-8=$ $1\ 222-500=$ $257+50=$ $9\ 874-800=$
 $947+50=$ $1\ 340+60=$ $1\ 875-75=$ $1\ 000+724=$

4. Minden varázsló más házban él a rémséges erdő mélyén:

- Az lila, szürke, kék, piros, narancs színű házak vannak.
- Összekeveredtek a házsámok. 73, 193, 423, 333, 613.
- A narancs színű nem szélső ház.
- A legnagyobb házon van a legkisebb szám.
- A narancs színű házon 100-tól nagyobb szám van, mint a kéken.
- A denevér 333-as számú házban él.
- A kék ház a szürke és a lila ház között van.
- A legnagyobb szám a lila házon van.
- A lila ház a legkisebb.
- A szürke ház háyszámja 423.

